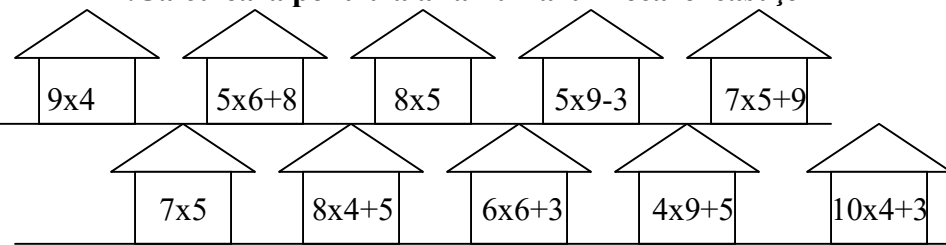


Fișă de lucru - Înmulțirea și împărțirea prin joc

1. Calculează pentru a afla numărul fiecărei căsuțe:



- Eu locuiesc în căsuța a treia cu număr par. Căsuța mea are numărul.....
- Vecinii mei stau la căsuțele cu numerele:.....

2. Problemă în versuri:

În grădină-i veselie,
Se mărită-o iasomie.
Florile, perechi, tot vin
Să se distreze din plin:
Trei perechi de viorele,
Cinci perechi de albastrele,

Opt perechi de bujorei
Și șase de ghiocei,
Cinci perechi de gălbenele
Și-ncă nouă de lalele.
Se gândește o albină:
„Câte flori joacă-n grădină?”

R: _____ flori

3. Care este numele fetei? (Dacă rezolvi corect exercițiile, în ordinea dată, vei afla numele fetei.)

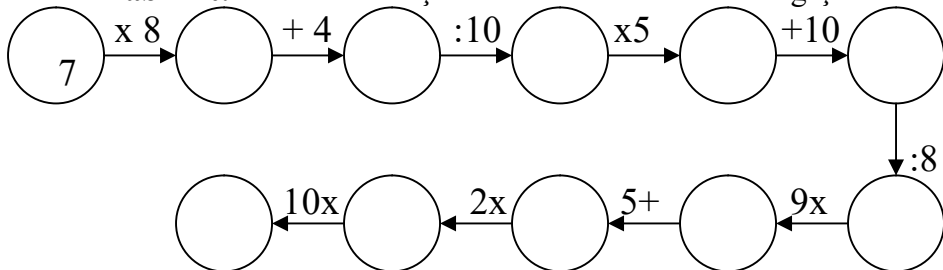


- 1) $5 \times 6 - 7 = \underline{\quad}$ 2) $2 \times 7 = \underline{\quad}$ 3) $5 \times 5 + 1 = \underline{\quad}$
 4) $3 \times 6 = \underline{\quad}$ 5) $42 : 7 + 24 = \underline{\quad}$ 6) $36 : 4 = \underline{\quad}$
 7) $7 \times 4 = \underline{\quad}$ 8) $90 : 9 + 8 = \underline{\quad}$

L	A	M	E	I	R	B
28	18	23	9	14	26	30

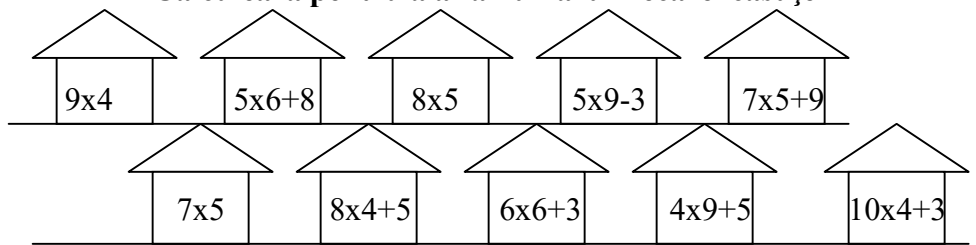
- Numele fetei este _____

4. Labirint: Rezolvă exercițiile în ordinea indicată de săgeți.



Fișă de lucru - Înmulțirea și împărțirea prin joc

1. Calculează pentru a afla numărul fiecărei căsuțe:



- Eu locuiesc în căsuța a treia cu număr par. Căsuța mea are numărul.....
- Vecinii mei stau la căsuțele cu numerele:.....

2. Problemă în versuri:

În grădină-i veselie,
Se mărită-o iasomie.
Florile, perechi, tot vin
Să se distreze din plin:
Trei perechi de viorele,
Cinci perechi de albastrele,

Opt perechi de bujorei
Și șase de ghiocei,
Cinci perechi de gălbenele
Și-ncă nouă de lalele.
Se gândește o albină:
„Câte flori joacă-n grădină?”

R: _____ flori

3. Care este numele fetei? (Dacă rezolvi corect exercițiile, în ordinea dată, vei afla numele fetei.)



- 1) $5 \times 6 - 7 = \underline{\quad}$ 2) $2 \times 7 = \underline{\quad}$ 3) $5 \times 5 + 1 = \underline{\quad}$
 4) $3 \times 6 = \underline{\quad}$ 5) $42 : 7 + 24 = \underline{\quad}$ 6) $36 : 4 = \underline{\quad}$
 7) $7 \times 4 = \underline{\quad}$ 8) $90 : 9 + 8 = \underline{\quad}$

L	A	M	E	I	R	B
28	18	23	9	14	26	30

- Numele fetei este _____

4. Labirint: Rezolvă exercițiile în ordinea indicată de săgeți.

